

5° A
CURSO 2010-11
Religión

Misión: Descubrir a Jesús



ÍNDICE

EXPLICACIÓN DEL TRABAJO	2
JORGE Y ALBERTO	9
ALBA A. y ANA	13
ALEX y MANU	1
CELIA y ALBA M.	8
JAVIER y MARCOS	13
LUIS, SERGIO F. y PAU	18
SANDRA y ALBA C.....	23
VICTOR Y ALVARO	31
LAURA Y SOFIA	36
CÉSAR Y ANDREA	40



EXPLICACIÓN DEL TRABAJO

Misión: Descubrir a Jesús

El personaje: Jesús

Hola amigos. ¡Bienvenidos! Os invitamos a disfrutar una nueva aventura en cada trimestre de este curso. Para comenzar vamos a trabajar sobre el personaje, sobre Jesús. En las cuatro primeras unidades vais a trabajar diferentes cualidades que os acercarán un poco más al verdadero rostro de Jesús. Atentos a cada una de ellas, son pistas muy importantes para conocer de verdad quién es.

Trabajando en esta webquest conseguiréis repasar los contenidos de cada unidad y comprenderlos mejor. Utilizaréis nuevos métodos para aprender y descubrir cosas por vosotros mismos. Os proponemos un trabajo de investigación para que podáis divertirlos a la vez que aprendéis a trabajar de una manera diferente.

Pincha este enlace

http://www.sehacesaber.org/profesores/pagina?codigo=webquest_5_trimestre1_presentacion

1.- Investiga

Te proponemos hacer algunas investigaciones acerca de la figura de Jesús. Te ayudarán a comprender mejor los contenidos y a obtener buenos resultados en el test de autoevaluación.

En cada fase encontrarás la tarea a realizar y también te ofrecemos algunos sitios y documentos donde acudir para obtener ayuda. Más adelante encontrarás el repaso de la unidad que también puede ayudarte.

No te olvides de descargar el cuaderno del investigador para ir recogiendo todos tus descubrimientos. Al final del trimestre puede ser un buen trabajo de investigación que presentar a tu profesor. Está en pdf para imprimirlo y hacerlo a mano o bien en word para completarlo directamente con el ordenador.

Descárgate el cuaderno del investigador del 1er. trimestre ([en formato pdf](#)) ([en formato word](#))

Fase 1: El país donde vivió Jesús	Busca y bájate un mapa de Palestina en tiempos de Jesús sobre el que realizar las tareas siguientes. RECURSO 1
	Localiza en el mapa los siguientes accidentes geográficos: Mar Muerto, río Jordán y lago de Galilea. RECURSO 1
	Busca otras maneras de llamar al lago de Galilea y averigua sus características. RECURSO 2
	Sitúa en el mapa tres poblaciones importantes en la vida de Jesús. RECURSO 1
Recursos	1. http://www.geocities.com/leo600603/pagina/mapas/geobiblica.html 2. http://es.wikipedia.org/wiki/Palestina_en_tiempos_de_Jes%C3%BA

Fase 2: Nacimiento de Jesús	Señala en el mapa de la fase 1 la ruta que tuvieron que hacer José y María desde Nazaret a Belén.
	¿Sabes por qué celebramos la Navidad el 25 de diciembre? Investígalo. RECURSO 3
	Mira el siguiente vídeo de la canción Más Allá que Gloria Estefan cantó en el Vaticano ante Juan Pablo II. Escribe en el cuaderno las frases que más te gusten acerca del sentido de la Navidad. RECURSO 2
	Visita el enlace del Museo Thyssen y elige una pintura que te guste acerca del nacimiento de Jesús o del Niño Jesús. Pégala en tu cuaderno, copia los datos más importantes y explica por qué la has elegido. RECURSO 4
Recursos	2. http://www.youtube.com/watch?v=Ep3Reqa2T5o 3. http://cpalfind.educa.aragon.es/navidad/historia.htm 4. http://www.museothyssen.org/thyssen/coleccion/recorridos1.html

Fase 3: Jesús y el templo	Busca y bájate un mapa de la ciudad de Jerusalén en tiempos de Jesús. Sitúa en el mapa el Templo de Jerusalén. RECURSO 1
	Busca también una ilustración del Templo en tiempos de Jesús. Investiga el nombre y el uso de cada una de las partes del templo. RECURSO 2
	Busca una fotografía actual del lugar donde se encontraba el templo y pégala en tu cuaderno. RECURSO 2
	Señala en el mapa de Palestina de la fase 1 la ruta de vuelta de Jerusalén a Nazaret.
	Más adelante, cuando Jesús era mayor expulsó a los mercaderes del templo. Busca en el evangelio Mc 11, 15-18 léelo y descubre por qué querían matar a Jesús. RECURSO 3
Recursos	1. http://www.geocities.com/leo600603/pagina/mapas/geobiblica.html 2. http://www.upcomillas.es/personal/jmmoreno/cursos/Esseer/Jerusalen/Jerusalen.htm#TEMPLO 3. http://www.pastoralsj.org/biblia/

Test y repaso

http://www.sehacesaber.org/profesores/pagina?codigo=webquest_5_trimestre1_repaso

SERGIO y DAVID

Busca y bájtate un mapa de Palestina en tiempos de Jesús sobre el siguientes.

Localiza en el mapa los siguientes accidentes geográficos: Mar Muerto, río Jordán y lago de Galilea.

Busca otras maneras de llamar al lago de Galilea y averigua sus características.

Sitúa en el mapa tres poblaciones importantes en la vida de Jesús.

Señala en el mapa de la fase 1 la ruta que tuvieron que hacer José y María desde Nazaret a Belén.



Mira el siguiente vídeo de la canción Más Allá que Gloria Estefan cantó en el Vaticano ante Juan Pablo II. Escribe en el cuaderno las frases que más te gusten acerca del sentido de la Navidad.

Cuando das sin esperar
Cuando quieres de verdad
Cuando brindas perdón
En lugar de rencor
Hay paz en tu corazón.

Cuando sientes compasión
Del amigo y su dolor
Cuando miras las estrellas
Que oculta la niebla
Hay paz en tu corazón.

coro
Más allá del rencor
De las lágrimas y del dolor
Brilla la luz del amor
Dentro de cada corazón

Ilusión, navidad
Con tus sueños a volar
Siembra paz
Brinda amor
Que el mundo entero pide más

Cuando brota una oración
Cuando aceptas el error
Cuando encuentras lugar
Para la libertad
Hay una sonrisa más

Cuando llega la razón
Y se va la incompreensión
Cuando quieres luchar
Por un ideal
Hay una sonrisa más.

Hay un rayo de sol
A través del cristal
Hay un mundo mejor
Cuando aprendes a amar

coro
Cuando alejas el temor
Y prodigas tu amistad

cuando a un mismo cantar
has unido tu voz
Hay paz en tu corazón.

Cuando buscas con ardor
Y descubres tu verdad
cuando quieres forjar
un mañana mejor
Hay paz en tu corazón.

Visita el enlace del Museo Thyssen y elige una pintura que te guste acerca del nacimiento de Jesús o del Niño Jesús. Pégala en tu cuaderno, copia los datos más importantes y explica por qué la has elegido.

El Museo Thyssen-Bornemisza ofrece al público un recorrido por el arte, desde el siglo XIII hasta las postrimerías del siglo XX. En las cerca de mil obras expuestas el visitante podrá contemplar los principales periodos y escuelas pictóricas del arte occidental como el Renacimiento, el Manierismo, el Barroco, el Rococó, el Romanticismo y el arte de los siglos XIX y XX hasta llegar al Pop Art. Se incluyen también algunos movimientos carentes de representación en las colecciones estatales, como el Impresionismo, el Fauvismo, el Expresionismo alemán y las Vanguardias experimentales de comienzos del siglo XX. Asimismo cabe destacar la importante colección de pintura norteamericana del siglo XIX, única en el ámbito museístico europeo.

Por otro lado, más allá de su carácter panorámico, la colección que alberga el Museo Thyssen-Bornemisza nos introduce en los gustos y preferencias de sus dos principales artífices, los barones Heinrich Thyssen-Bornemisza (1875-1947) y Hans Heinrich Thyssen-Bornemisza (1921-2002). Formados en la tradición artística centroeuropea, ambos prestaron especial atención al género del retrato y del paisaje. Así se evidencia en las obras del Museo Thyssen-Bornemisza, diferentes también en este sentido de los cuadros religiosos y de historia predominantes en otros museos españoles. Desde el 2004 también forma parte del Museo la Colección Carmen Thyssen-Bornemisza con más de doscientas obras que vienen a completar los estilos y géneros ya presentes en la Colección Permanen

¿Sabes por qué celebramos la Navidad el 25 de diciembre? Investígalo.

Desde la antigüedad existían ritos paganos que celebraban el solsticio de invierno y la llegada de la primavera.

La fiesta pagana más estrechamente asociada con la nueva Navidad era el Saturnal romano, el 19 de diciembre, en honor de Saturno, dios de la agricultura, que se celebraba durante siete días de



bulliciosas diversiones y banquetes.

El 19 de diciembre era el día más importante, ya que se celebraba una gran fiesta en honor a Saturno, dios de la agricultura. Con una duración de siete días, de banquetes y bebidas, los romanos le pedían bienestar a su dios.

Al mismo tiempo, se celebraba en el norte de Europa una fiesta de invierno similar, conocida como Yule, en la que se quemaban grandes troncos adornados con ramas y cintas en honor a los dioses para conseguir que el Sol brillara con más fuerza.

Como los evangelios no mencionan fechas, no es seguro que Jesús naciera ese día. De hecho, el día de Navidad no fue oficialmente reconocido hasta el año 345, cuando por influencia de San Juan Crisóstomo y San Gregorio Nacianzeno se proclamó el 25 de diciembre como fecha de la Natividad.

El día de Navidad es el 25 de diciembre, cuando se conmemora el Nacimiento de Jesucristo en Belén según los evangelios de San Mateo y San Lucas. Después de la Pascua de Resurrección es la fiesta más importante del año eclesiástico.

Busca también una ilustración del Templo en tiempos de Jesús. Investiga el nombre y el uso de cada una de las partes del templo.



lo querían matar por su gran inteligencia y su bondad

Busca y bájtate un mapa de la ciudad de Jerusalén en tiempos de Jesús. Sitúa en el mapa el Templo de Jerusalén.

Más adelante, cuando Jesús era mayor expulsó a los mercaderes del templo. Busca en el evangelio Mc 11, 15-18 léelo y descubre por qué querían matar a Jesús.

JORGE Y ALBERTO

Busca y bájate un mapa de Palestina en tiempos de Jesús sobre el que realizar las tareas siguientes.

Localiza en el mapa los siguientes accidentes geográficos: Mar Muerto, río Jordán y lago de Galilea.

Sitúa en el mapa tres poblaciones importantes en la vida de Jesús alilea.

Señala en el mapa de Palestina de la fase 1 la ruta de vuelta de de Jerusalén a Nazaret.



Busca otra forma de llamar al lago galilea y sus características

Cafarnaúm Genesazaneht y Magdala

RECURSO 3 Como los evangelios no mencionan fechas, no es seguro que Jesús naciera ese día. De hecho, el día de Navidad no fue oficialmente reconocido hasta el año 345, cuando por influencia de San Juan Crisóstomo y San Gregorio Nacianzeno se proclamó el 25 de diciembre como fecha de la Natividad.

El día de Navidad es el 25 de diciembre, cuando se conmemora el Nacimiento de Jesucristo en Belén según los evangelios de San Mateo y San Lucas. Después de la Pascua de Resurrección es la fiesta más importante del año.

Recurso 2 Le da sentimientos a la navidad

Visita el enlace del Museo Thyssen y elige una pintura que te guste acerca del nacimiento de Jesús o del Niño Jesús. Pégala en tu cuaderno, copia los datos más importantes y explica por qué la has elegido.

Recurso 4 El **Museo Thyssen-Bornemisza** es una [pinacoteca](#) de [arte](#) antiguo y del [siglo XX](#) ubicada en [Madrid \(España\)](#). Su existencia se debe al acuerdo de [arrendamiento](#) (1988) y a la posterior adquisición, por parte del Gobierno español (julio de 1993), de una amplia selección de la [colección privada](#) reunida por la [familia Thyssen-Bornemisza](#) a lo largo de siete décadas. Este museístico español, desde el [gótico](#) ([Duccio](#), [Jan van Eyck](#)) hasta el [pop art](#) y los [años 80](#) ([Tom Wesselmann](#), [Lucian](#)



[Freud](#)), por lo que vino a complementar



Busca y bájate un mapa de la ciudad de Jerusalén en tiempos de Jesús. Sitúa en el mapa el Templo de Jerusalén.



Más adelante, cuando Jesús era mayor expulsó a los mercaderes del templo. Busca en el evangelio Mc 11, 15-18 léelo y descubre por qué querían matar a Jesús
[15] Llegaron a Jerusalén y, entrando en el templo, se puso a echar a los que vendían y compraban en el templo; volcó las mesas de los cambistas y las sillas de los que vendían palomas. Lo oyeron los sumos sacerdotes y los letrados y buscaban la forma de acabar con él; pero lo temían, porque toda la gente

FIN

ALBA A. y ANA

1,2,4 y 5) Busca y bájate un mapa de Palestina en tiempos de Jesús sobre el que realizar las tareas siguientes.

Localiza en el mapa los siguientes accidentes geográficos: Mar Muerto, río Jordán y lago de Galilea.

Sitúa en el mapa tres poblaciones importantes en la vida de Jesús.



El Mar de Galilea

Busca otras de
maneras de
llamar al lago
Galilea y
averigua sus
características

- ❏ También llamado **Mar** o **Lago de Tiberíades** y **Lago de Genesaret** .
- ❏ En hebreo כִּנֶּרֶת , «*Kinéret*», del hebreo «*kinor*» .Debido a su forma de arpa primitiva o lira; Números 34:11, Josué 13:27;
- ❏ En árabe, بحيرة طبريا , *Buhayrat Tibiriyā*) es un lago de agua dulce de Asia occidental, situado en la región del Próximo Oriente, y perteneciente a Israel, incluida una estrecha franja costera de 10 metros de anchura en su costa nororiental.^[1]



¿Sabes por qué celebramos la Navidad el 25 de diciembre? Investígalo

2: Porque Jesús nuestro salvador nació ese mismo día.

Mira el siguiente vídeo de la canción Más Allá que Gloria Estafan cantó en el Vaticano ante Juan Pablo II. Escribe en el cuaderno las frases que más te gusten acerca del sentido de la Navidad.

3: Cuando sientes compasión, del amigo y su dolor,

Cuando miras la estrella que oculta la niebla, hay paz en

Tu corazón.

Visita el enlace del Museo Thyssen y elige una pintura que te guste acerca del nacimiento de Jesús o del Niño Jesús. Pégala en tu cuaderno, copia los datos más importantes y explica por qué la has elegido



[Peter Paúl Rúbeas](#)

Título:

La Virgen y el Niño con santa Isabel y san Juan Bautista

Fecha:

c. 1618

Técnica:

Óleo sobre lienzo.

Medidas:

151 x 113 cm.

Ubicación:

Colección Thyssen-Bornemisza, en depósito en el Museo Nacional d'Art de Catalunya (MNAC)

Numero de inventario

Nº INV. 349 (1936.3)

Señala en el mapa de Palestina de la fase 1 la ruta de vuelta de de Jerusalén a Nazaret.



La ciudad vieja de Jerusalén en la actualidad

También una ilustración del Templo en tiempos de Jesús. Investiga el nombre y el uso de cada una de las partes del templo



Biblia:

Más adelante, cuando Jesús era mayor expulsó a los mercaderes del templo. Busca en el evangelio Mc 11, 15-18 léelo y descubre por qué querían matar a Jesús.

Llegaron a Jerusalén, y Jesús entró en el templo. Y comenzó a echar fuera a los que vendían y a los que compraban en el templo. Volcó las mesas de los cambistas y las sillas de los que vendían palomas, ¹⁶ y no consentía que nadie cruzase por el templo llevando utensilio alguno. ¹⁷ Y enseñaba diciendo: "¿No está escrito que *mi casa será llamada casa de oración para todas las naciones*? Pero vosotros la habéis hecho cueva de ladrones. Lo oyeron los principales sacerdotes y los escribas, y buscaban cómo matarle; porque le tenían miedo, pues todo el pueblo estaba maravillado de su doctrina

Final

ALEX y MANU

1,2,3,4,y 5. Busca y bágate un mapa de Palestina en tiempos de Jesús sobre el que realizar las tareas siguientes.

Localiza en el mapa los siguientes accidentes geográficos: Mar Muerto, río Jordán y lago de Galilea. Señala en el mapa de la fase 1 la ruta que tuvieron que hacer José y María desde Nazaret a Belén



Busca otras maneras de llamar al lago de Galilea y averigua sus características

El **Mar de Galilea**, también llamado **Mar** o **Lago de Tiberíades** y **Lago de Genesaret** (en hebreo כִּנֶּרֶת , «*Kinéret*», del hebreo «*kinor*» ([kinnor](#)) debido a su forma de arpa primitiva o lira; Números 34:11, Josué 13:27; en árabe, طبريا بحيرة, *Buhayrat Tibiriya*) es un lago de agua dulce de Asia occidental, situado en la región del Próximo Oriente, y perteneciente a Israel, incluida una estrecha franja costera de 10 metros de anchura en su costa nororiental.¹ Su origen es tectónico, asociado al complejo del Valle del Gran Rift africano, de 21 [km](#) de longitud norte-sur y 13 km de longitud este-oeste, con una profundidad máxima de 48 m y una altura de 212 m bajo el nivel del mar (aprox. la mitad de lo que está el Mar Muerto bajo el nivel del mar, pero éste es [hipersalado](#)), lo que convierte al Mar de Galilea en el lago de agua dulce más bajo del mundo. Aparte de muchos otros manantiales, su mayor aporte hídrico procede de las aguas del río Jordán, que desemboca por su lado norte, y el cual desagua del lago por su lado sur. Jesús



3 Mira el siguiente vídeo de la canción Más Allá que Gloria Estefan cantó en el Vaticano ante Juan Pablo II.

Escribe en el cuaderno las frases que más te gusten acerca del sentido de la Navidad.

GLORIA ESTEFAN:

➡ Más allá del rencor las lágrimas y el dolor
brilla la luz dentro de cada corazón



4. Mira el siguiente vídeo de la canción Más Allá que Gloria Estefan cantó en el Vaticano ante Juan Pablo II. Escribe en el cuaderno las frases que más te gusten acerca del sentido de la Navidad.



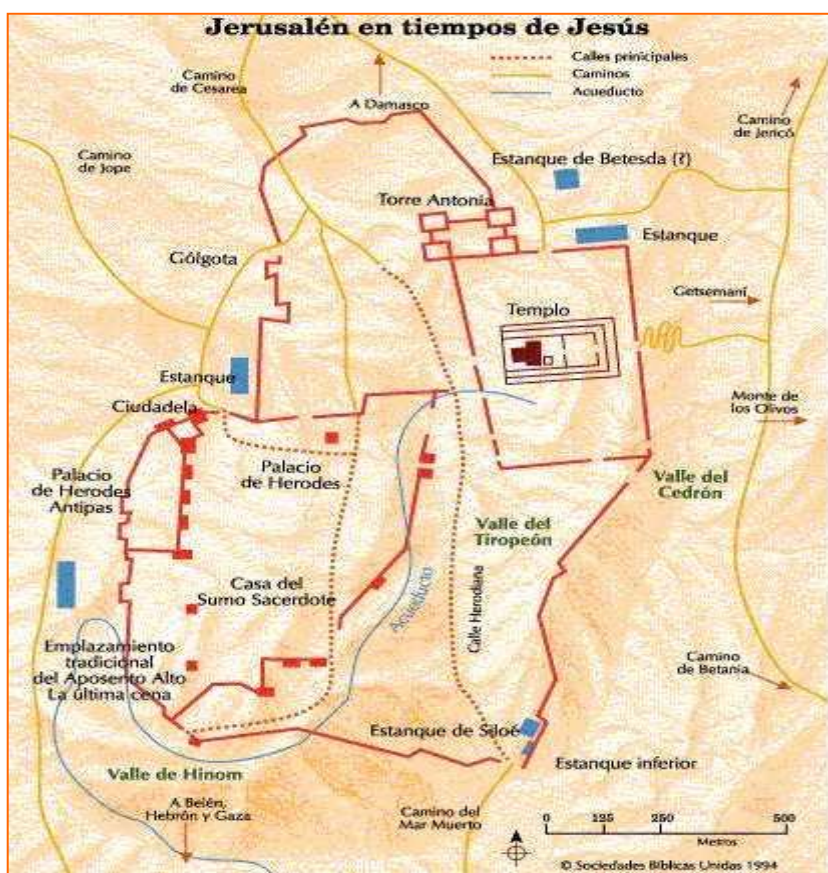
Peter Paul Rubens
La Virgen y el niño con Santa Isabel
y San Juan Bautista
1618.
La hemos elegido porque era la que
más nos gustaba

2. ¿Sabes por qué celebramos la
Navidad el 25 de diciembre?
Investígalo.

Celebramos la navidad el 25 de Diciembre porque nació
Jesús

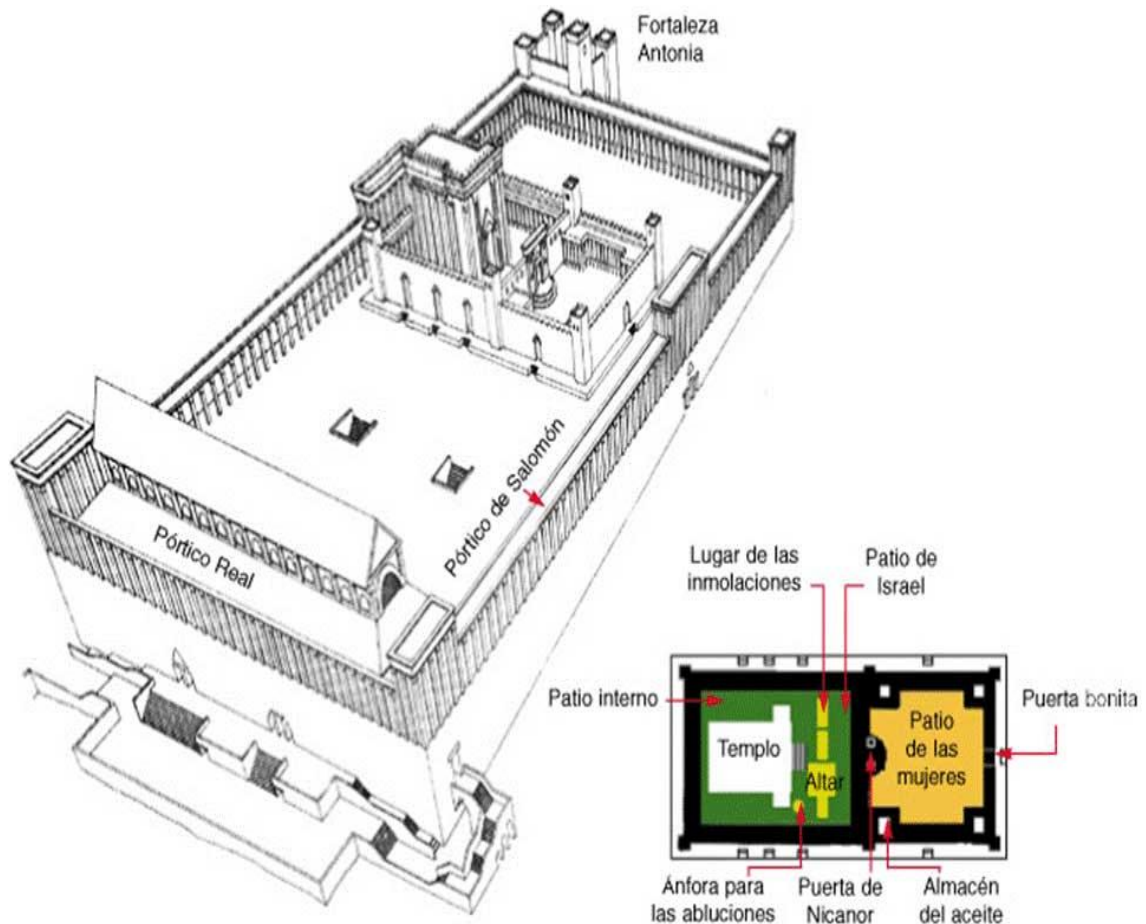


1 Busca y bájate un mapa de la ciudad de Jerusalén en tiempos de Jesús. Sitúa en el mapa el Templo de Jerusalén.



2 Busca también una ilustración del Templo en tiempos de Jesús. Investiga el nombre y el uso de cada una de las partes del templo.

TEMPLO EN TIEMPOS DE JESÚS.



5 Más adelante, cuando Jesús era mayor expulsó a los mercaderes del templo. Busca en el evangelio Marcos 11, 15-18 léelo y descubre por qué querían matar a Jesús.

Llegaron a Jerusalén y, entrando en el templo, se puso a echar a los que vendían y compraban en el templo; volcó las mesas de los cambistas y las sillas de los que vendían palomas,[16]y no dejaba a nadie transportar objetos por el templo.[17]Y les explicó: ---Está escrito: Mi casa será casa de oración para todas las naciones; en cambio vosotros la habéis convertido en cueva de asaltantes.[18]Lo oyeron los sumos sacerdotes y los letrados y buscaban la forma de acabar con él; pero lo temían, porque toda la gente admiraba su enseñanza.

3 Busca una fotografía actual del lugar donde se y pégala en tu cuaderno.



CELIA y ALBA M.

La parte má Busca y bájate un mapa de Palestina en tiempos de Jesús sobre el que realizar las tareas siguientes °

s llana de GALILEA, se situaba alrededor del lago o "[Mar de Tiberíades](#)",^[9] también llamado "Mar de GALILEA",^[10] "Lago de Genesaret".^[11] Tiene 21 km de largo y 12 de ancho, está situado a 210 m bajo el nivel del mar.



Los paisanos quisieron tirar a JESUS y ahogarlo el en mar de GALILEA .



Que el mundo entero pide más

Ilusión, navidad
Con tus sueños a volar
Siembra paz
Brinda amor
Que el mundo entero pide más.

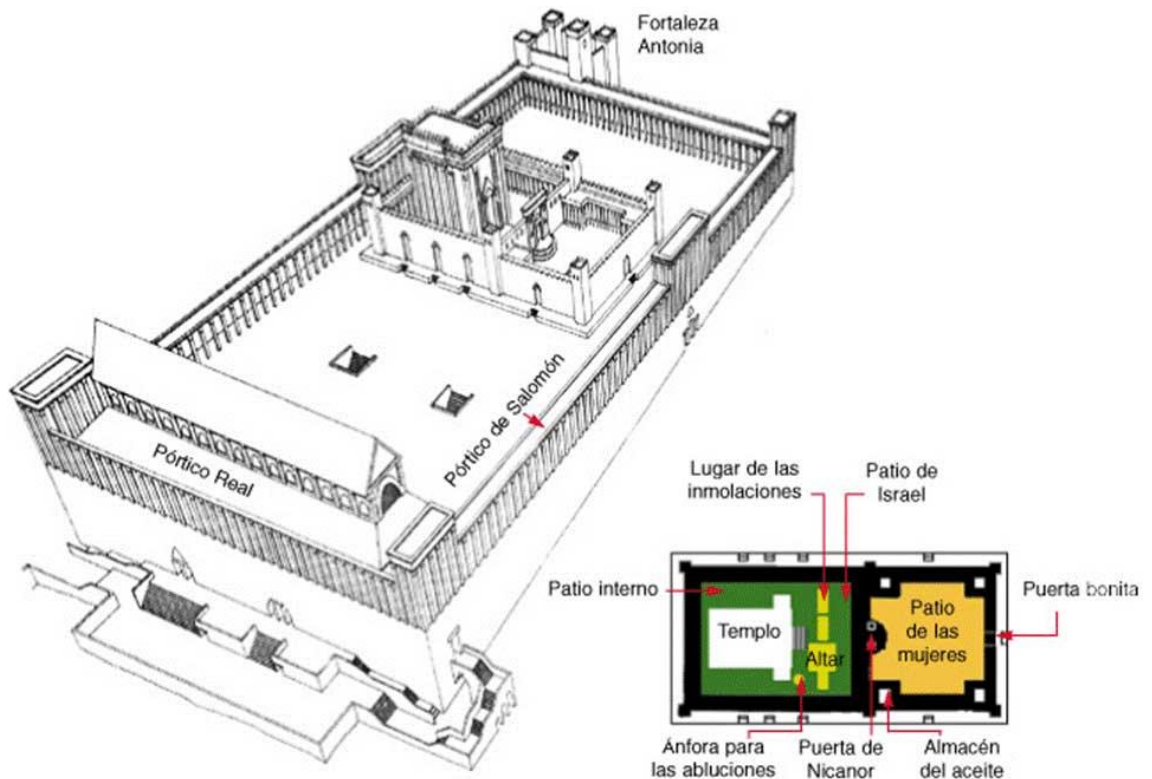


[Rogier van der Weyden](#)

Título: *La Virgen con el Niño entronizada*
Fecha: c. 14331
Técnica: Óleo sob0



Medidas:



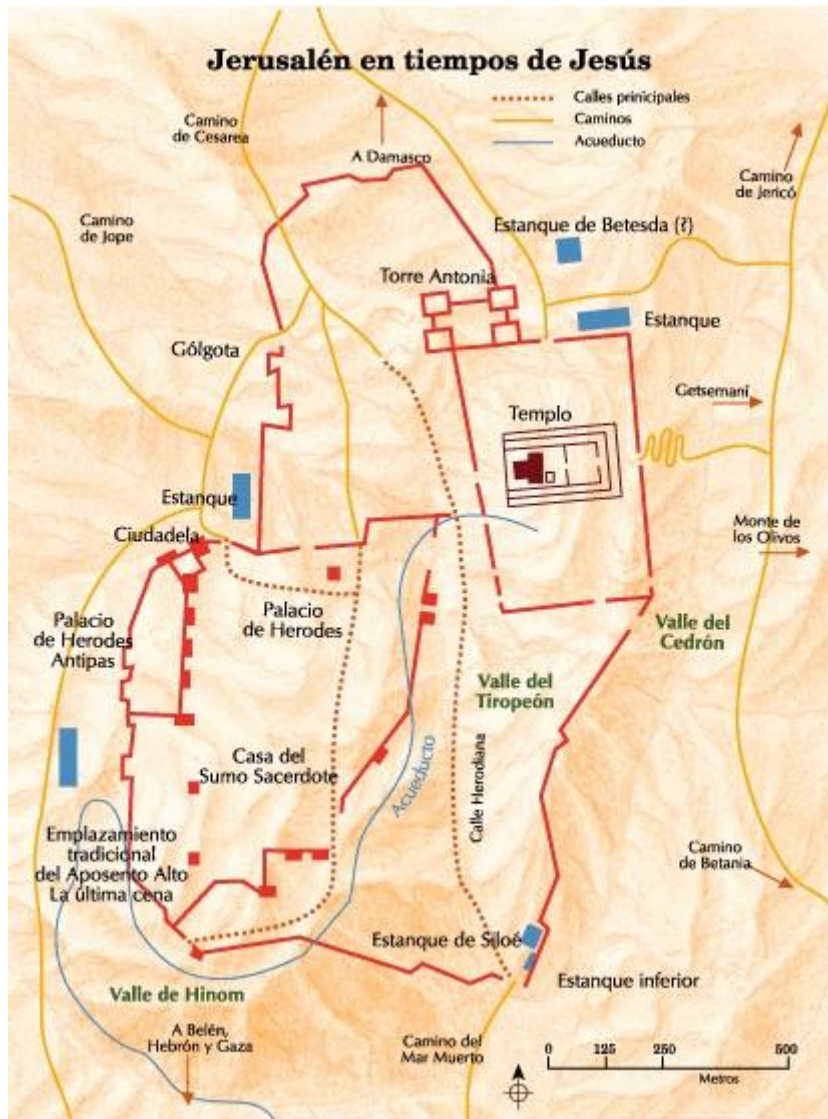
11,4 cm

Ubicación:

Museo Thyssen-Bornemisza, Madrid

Numero de inventario

Nº INV. 435 (1930.125)



Busca y bájate un mapa de la ciudad de Jerusalén en tiempos de Jesús. Sitúa en el mapa el Templo de Jerusalén

[15]Llegaron a Jerusalén y, entrando en el templo, se puso a echar a los que vendían y compraban en el templo; volcó las mesas de los cambistas y las sillas de los que vendían palomas,[16]y no dejaba a nadie transportar objetos por el templo.

[18]Lo oyeron los sumos sacerdotes y los letrados y buscaban la forma de acabar con él; pero lo temían, porque toda la gente admiraba su enseñanza.

JAVIER y MARCOS

PREGUNTAS

Busca y bájate un mapa de Palestina en tiempos de Jesús sobre el que realizar las tareas siguientes.

Localiza en el mapa los siguientes accidentes geográficos: Mar Muerto, río Jordán y lago de Galilea.

Busca otras maneras de llamar al lago de Galilea y averigua sus características.

en Sitúa el mapa tres poblaciones importantes en la vida de Jesús.

Señala en el mapa de Palestina de la fase 1 la ruta de vuelta de de Jerusalén a Nazaret.



PREGUNTAS

¿Sabes por qué celebramos la Navidad el 25 de diciembre? Investígalo. Visita el enlace del Museo Thyssen y elige una pintura que te guste acerca del nacimiento de Jesús o del Niño Jesús. Pégala en tu cuaderno, copia los datos más importantes y explica por qué la has elegido

INFORMACION

Como los evangelios no mencionan fechas, no es seguro que Jesús naciera ese día. De hecho, el día de Navidad no fue oficialmente reconocido hasta el año 345, cuando por influencia de San Juan Crisóstomo y San Gregorio Nacianceno se proclamó el 25 de diciembre como fecha de la Natividad. Visita el enlace del Museo Tizne y elige una pintura que te guste acerca del nacimiento de Jesús o del Niño Jesús. Pégala en tu cuaderno, copia los datos más importantes y explica por qué la has elegido

El día de Navidad es el 25 de diciembre, cuando se conmemora el Nacimiento de Jesucristo en Belén según los evangelios de San Mateo y San Lucas. Después de la Pascua de Resurrección es la fiesta más importante del año eclesiástico. El Museo Busca también una ilustración del Templo en tiempos de Jesús. Investiga el pégala en tu cuaderno nombre y el uso de cada una de las partes del templo Busca una fotografía

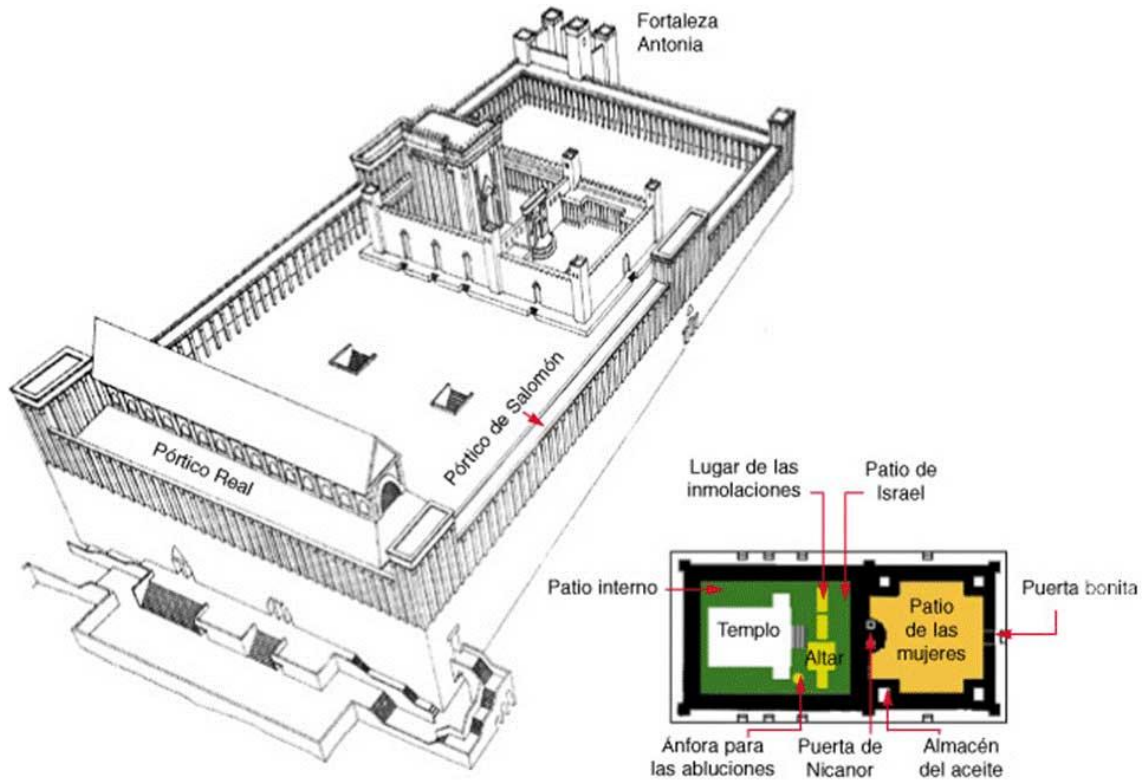
actual del lugar donde se encontraba el templo y



FIN



En la actual diapositiva podemos ver una reproducción de la torre Antonia, desde donde los romanos controlaban la ciudad y el templo. Como ya hemos visto estaba adosada a la explanada del templo para mejor poder vigilar los movimientos de los judíos. En esta torre ha localizado la tradición el pretorio donde Pilato juzgó y condenó a Jesús





EXPLANADA DEL TEMPLO DESDE EL MONTE DE LOS OLIVOS

Más adelante, cuando Jesús era mayor expulsó a los mercaderes del templo. Busca en el evangelio Mc 11, 15-18 léelo y descubre por qué querían matar a Jesús

Llegaron a Jerusalén y, entrando en el templo, se puso a echar a los que vendían y compraban en el templo; volcó las mesas de los cambistas y las sillas de los que vendían palomas,[16]y no dejaba a nadie transportar objetos por el templo.[17]Y les explicó: --- Está escrito: Mi casa será casa de oración para todas las naciones; en cambio vosotros la habéis convertido en cueva de asaltantes.[18]Lo oyeron los sumos sacerdotes y los letrados y buscaban la forma de acabar con él; pero lo temían, porque toda la gente admiraba su enseñanza.

LUIS, SERGIO F. y PAU

1. Señala en el mapa de la fase 1 la ruta que tuvieron que hacer José y María desde Nazaret a Belén
2. Busca y bájate un mapa de Palestina en tiempos de Jesús sobre el que realizar las tareas siguientes.
Localiza en el mapa los siguientes accidentes geográficos: Mar Muerto, río Jordán y lago de Galilea.



3. Busca otras maneras de llamar al lago de Galilea y averigua sus características. Sitúa en el mapa tres poblaciones importantes en la vida de Jesús.

El Mar de Galilea, también llamado Mar o Lago de Tiberíades y Lago de Genesaret (en hebreo, Kinéret, del hebreo kinor (kinnor) debido a su forma de arpa primitiva o lira; Números 34:11, Josué 13:27; en árabe, , Buhayrat Tibiriyā) es un lago de agua dulce de Asia occidental, situado en la región del Próximo Oriente, y perteneciente a Israel, incluida una estrecha franja costera de 10 metros de anchura en su costa nororiental.



AGUJERO NEGRO

1. ¿Sabes por qué celebramos la Navidad el 25 de diciembre? Investígalo

Porque nació Jesús el 25 de diciembre

2. Mira el siguiente vídeo de la canción Más Allá que Gloria Estefan cantó en el Vaticano ante Juan Pablo II. Escribe en el cuaderno las frases que más te gusten acerca del sentido de la Navidad

Cuando das sin esperar

3. Visita el enlace del Museo Thyssen y elige una pintura que te guste acerca del nacimiento de Jesús o del Niño Jesús. Pégala en tu cuaderno, copia los datos más importantes y explica por qué la has elegido.



Porque la Virgen María
Autor: Lorenzo Monaco

Título: La Virgen y el
Fecha: c. 1415-1420

Técnica: Temple y oro sobre tabla.

Medidas: 147 x 82 cm

Ubicación: Colección Thyssen-Bornemisza, en depósito en el Museu Nacional d'Art de Catalunya

Numero de inventario N° INV. 227 (1981.73)

y el niño Jesús están juntos

Niño en el trono con seis ángeles

1.



La ciudad vieja de Jerusalén en la actualidad



EXPLANADA DEL TEMPLO DESDE EL MONTE DE LOS OLIVOS

evangelio Mc Más adelante, cuando Jesús era mayor expulsó a los mercaderes del templo. Busca en el eva11, 15-18 léelo y descubre por qué querían matar a Jesús

porque no dejaba de trasportar cosas

FIN.

SANDRA y ALBA C.

1 Busca y bájtate un mapa de Palestina en tiempos de Jesús sobre el que realizar las tareas siguientes.

2. Localiza en el mapa los siguientes accidentes geográficos: Mar Muerto, río Jordán y lago de Galilea.

4. Sitúa en el mapa tres poblaciones importantes en la vida de Jesús

1. Señala en el mapa de la fase 1 la ruta que tuvieron que hacer José y María desde Nazaret a Belén.



3. Busca otras maneras de llamar al lago de Galilea y averigua sus características

El **Mar de Galilea**, también llamado **Mar** o **Lago de Tiberíades** y **Lago de Genesaret**

◆ es un lago de agua dulce de Asia occidental, situado en la región del Próximo Oriente, y perteneciente a Israel, incluida una estrecha franja costera de 10 metros de anchura en su costa nororiental.



Visita el enlace del Museo Thyssen y elige una pintura que te guste acerca del nacimiento de Jesús o del Niño Jesús. Pégala en tu cuaderno, copia los datos más importantes y explica por qué la has elegido



Título:
Santa Ana con la Virgen y el Niño Jesús

1. Mira el siguiente vídeo de la canción Más Allá que Gloria Estefan cantó en el Vaticano ante Juan Pablo II. Escribe en el cuaderno las frases que más te gusten acerca del sentido de la Navidad

Canción de Gloria Estefan Más allá del vaticano
cuando sientes compasión de amigo y su dolor cuando miras las estrellas que ocurra la niebla
Canción de Gloria Estefan Más allá del vaticano
cuando sientes compasión de amigo y su dolor cuando miras las estrellas que ocurra la niebla



2.¿Sabes porque celebramos la navidad el 25 de diciembre? Investígalo

Desde la antigüedad existían ritos paganos que celebraban el solsticio de invierno y la llegada de la primavera.

La fiesta pagana más estrechamente asociada con la nueva Navidad era el Saturnal romano, el 19 de diciembre, en honor de Saturno, dios de la agricultura, que se celebraba durante siete días de bulliciosas diversiones y banquetes.

El 19 de diciembre era el día más importante, ya que se celebraba una gran fiesta en honor a Saturno, dios de la agricultura. Con una duración de siete días, de banquetes y bebidas, los romanos le pedían bienestar a su dios.

Al mismo tiempo, se celebraba en el norte de Europa una fiesta de invierno similar, conocida como Yule, en la que se quemaban grandes troncos adornados con ramas y cintas en honor a los dioses para conseguir que el Sol brillara con más fuerza.

Como los evangelios no mencionan fechas, no es seguro que Jesús naciera ese día. De hecho, el día de Navidad no fue oficialmente reconocido hasta el año 345, cuando por influencia de San Juan Crisóstomo y San Gregorio Nacianzeno se proclamó el 25 de diciembre como fecha de la Natividad.

El día de Navidad es el 25 de diciembre, cuando se conmemora el Nacimiento de Jesucristo en Belén según los evangelios de San Mateo y San Lucas. Después de la Pascua de Resurrección es la fiesta más importante del año eclesiástico.

Desde la antigüedad existían ritos paganos que celebraban el solsticio de invierno y la llegada de la primavera.

La fiesta pagana más estrechamente asociada con la nueva Navidad era el Saturnal romano, el 19 de diciembre, en honor de Saturno, dios de la agricultura, que se celebraba durante siete días de bulliciosas diversiones y banquetes.

El 19 de diciembre era el día más importante, ya que se celebraba una gran fiesta en honor a Saturno, dios de la agricultura. Con una duración de siete días, de banquetes y bebidas, los romanos le pedían bienestar a su dios.

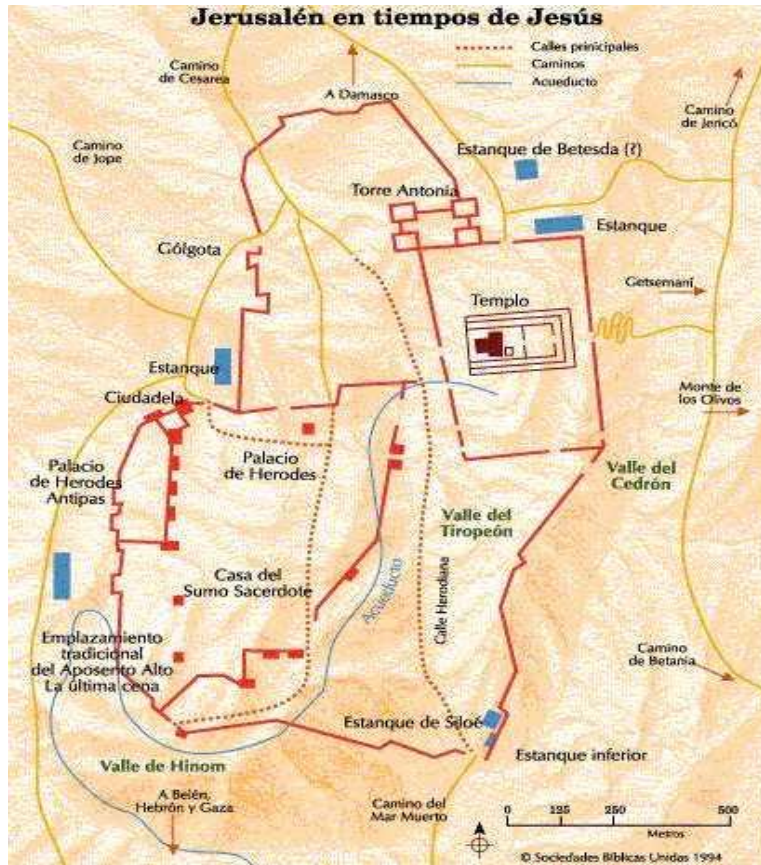
Al mismo tiempo, se celebraba en el norte de Europa una fiesta de invierno similar, conocida como Yule, en la que se quemaban grandes troncos adornados con ramas y cintas en honor a los dioses para conseguir que el Sol brillara con más fuerza.

Como los evangelios no mencionan fechas, no es seguro que Jesús naciera ese día. De hecho, el día de Navidad no fue oficialmente reconocido hasta el año 345, cuando por influencia de San Juan Crisóstomo y San Gregorio Nacianzeno se proclamó el 25 de diciembre como fecha de la Natividad.

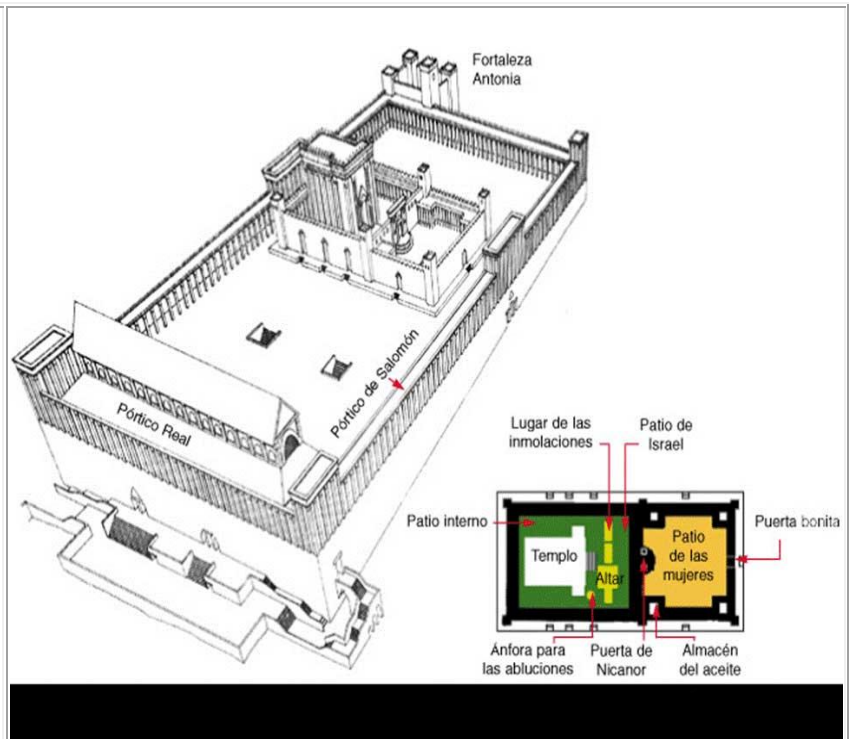
El día de Navidad es el 25 de diciembre, cuando se conmemora el Nacimiento de Jesucristo en Belén según los evangelios de San Mateo y San Lucas. Después de la Pascua de Resurrección es la fiesta más importante del año eclesiástico.



1. busca y baja te un mapa de la ciudad de Jerusalén en tiempos de Jesús. Sitúa en el mapa el templo de Jerusalén.



2. Busca también una ilustración del Templo en tiempos de Jesús. Investiga el nombre y el uso de cada una de las partes del templo



3. Busca una fotografía actual del lugar donde se encontraba el templo y pégala en tu cuaderno



5. Más mayor

del templo. Busca en el evangelio Mc 11, 15-18 léelo y descubre por qué querían matar a Jesús

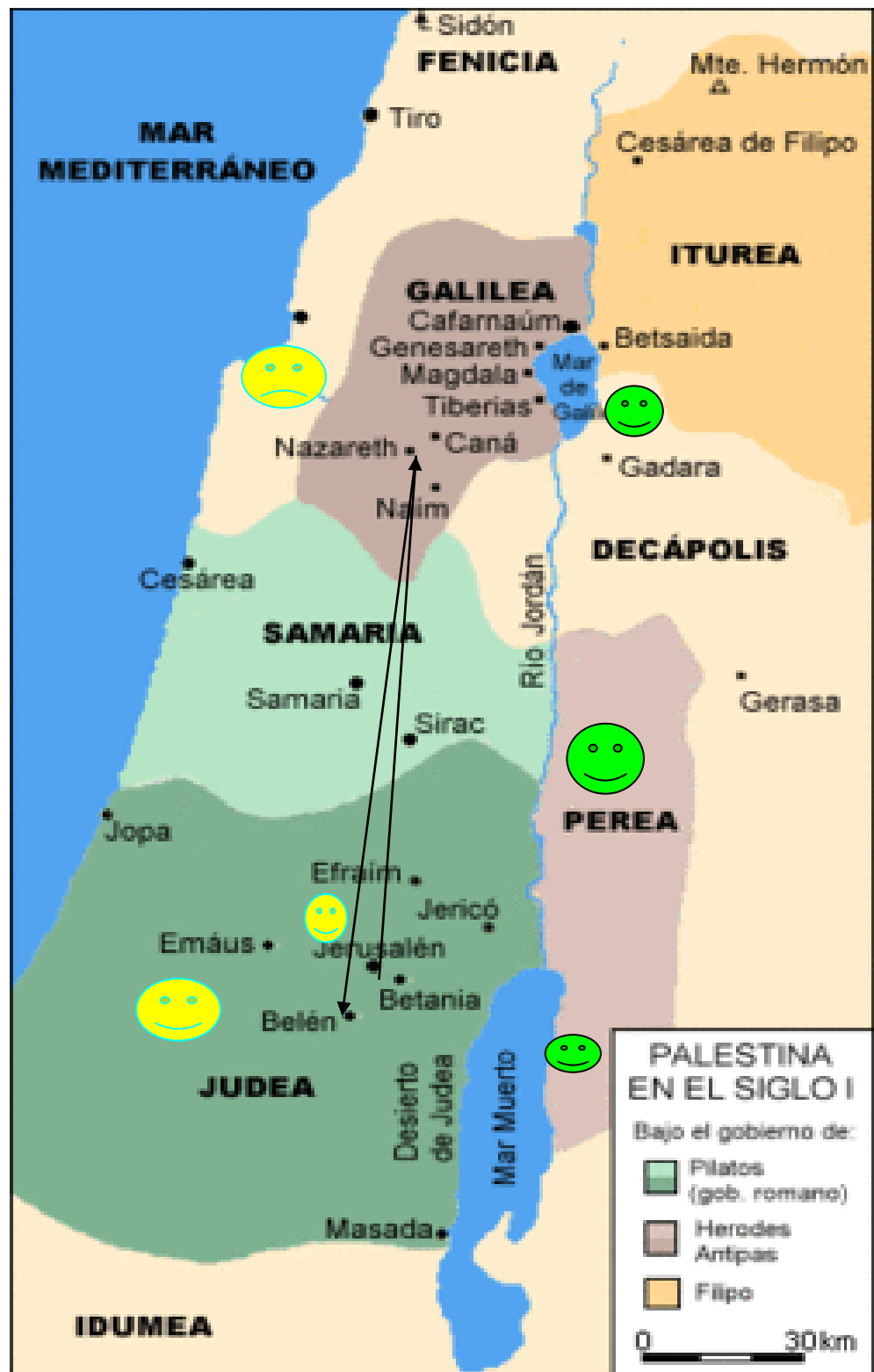
adelante, cuando Jesús era expulsó a los mercaderes

[15] Llegaron a Jerusalén y, entrando en el templo, se puso a echar a los que vendían y compraban en el templo; volcó las mesas de los cambistas y las sillas de los que vendían palomas,[16] y no dejaba a nadie transportar objetos por el templo.[17] Y les explicó: --- Está escrito: Mi casa será casa de oración para todas las naciones; en cambio vosotros la habéis convertido en cueva de asaltantes.[18] Lo oyeron los sumos sacerdotes y los letrados y buscaban la forma de acabar con él; pero lo temían, porque toda la gente admiraba su enseñanza.

VICTOR Y ALVARO

Localiza en el mapa los siguientes accidentes geográficos: Mar

Sitúa en el mapa tres poblaciones importantes en la vida de Jesús. RECURSO 1



Busca otras maneras de llamar al lago Galilea.

La parte más llana de Galilea, se situaba alrededor del lago o "Mar de Tiberíades",^[9] también llamado "Mar de Galilea",^[10] "Lago de Genesaret".^[11] Tiene 21 km de largo y 12 de ancho, está situado a 210 m bajo el nivel del mar.

Sabes por qué celebramos la Navidad el 25

RECURSO 3. Se desconoce la fecha exacta del nacimiento de Jesús, pero en el 334 d.C. el Papa Julío I estableció que Jesús había nacido el 25 de Diciembre, coincidiendo con otras fiestas paganas. Curiosamente, una de las fechas que se barajaron son el 16 o 20 de Mayo.

Mira el siguiente vídeo de la canción Más Allá que

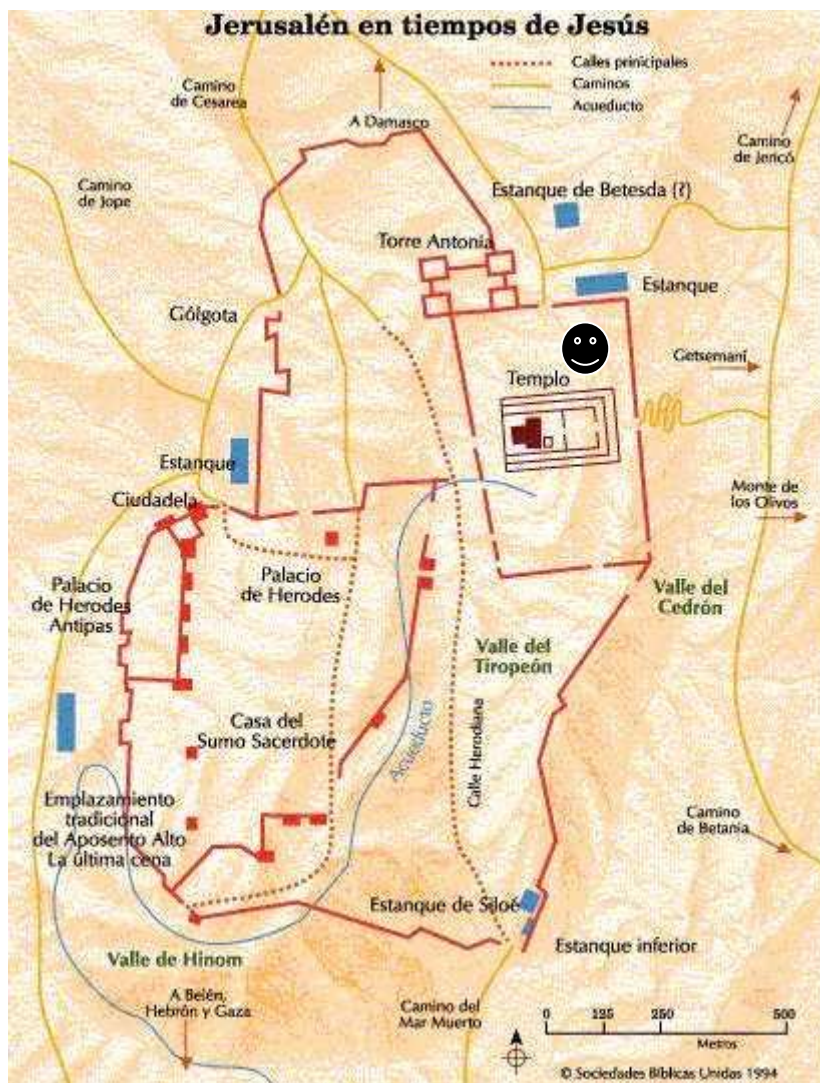
.villancicos, la tradición, las campanadas, nochebuena, nochevieja, estar con la familia y sentir a Jesús. De la canción la frase que más me ha gustado ha sido: Hay paz en tu corazón y que el mundo entero pide más.

Visita el enlace del Museo Thyssen y elige una pintura

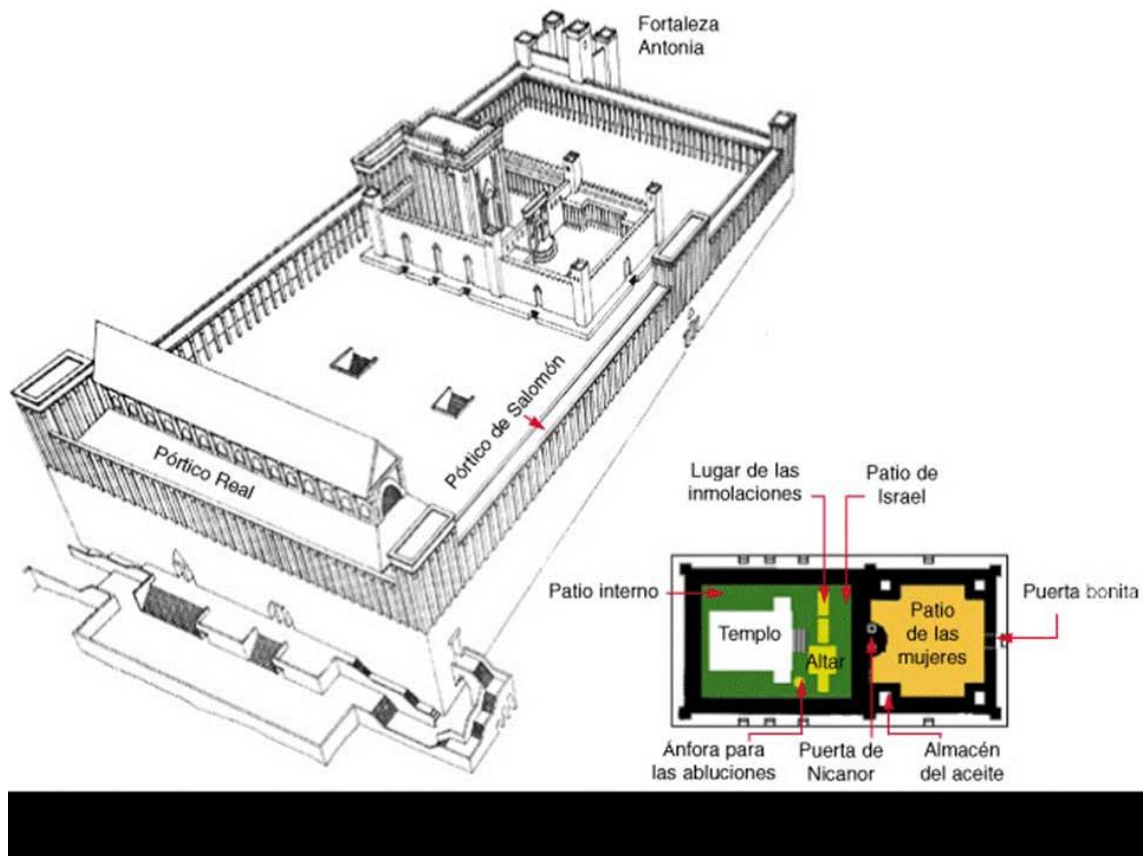


RECURSO 4.
bonito y real.

Lo he elegido porque me parece



Busca y bájate un mapa de la ciudad de Jerusalén en tiempos de Jesús. Sitúa en el mapa el Templo de Jerusalén. **RECURSO 1**



Busca también una ilustración del Templo en tiempos de Jesús. Investiga el nombre y el uso de cada una de las partes del templo. **RECURSO 2**



EXPLANADA DEL TEMPLO DESDE EL MONTE DE LOS OLIVOS

Busca una fotografía actual del lugar donde se encontraba el templo y pégala en tu cuaderno. **RECURSO 2**

Más adelante, cuando Jesús era mayor expulsó a los mercaderes del templo. Busca en el evangelio Mc 11, 15-18 léelo y descubre por qué querían matar a Jesús. **RECURSO 3**

[15]Llegaron a Jerusalén y, entrando en el templo, se puso a echar a los que vendían y compraban en el templo; volcó las mesas de los cambistas y las sillas de los que vendían palomas.

[18]Lo oyeron los sumos sacerdotes y los letrados y buscaban la forma de acabar con él; pero lo temían, porque toda la gente admiraba su enseñanza.

Lo querían matar porque por su inteligencia.

LAURA Y SOFIA

. Busca otras maneras de llamar al lago de Galilea y averigua sus características.

preguntas:

El **Mar dees** un lago de agua dulce de [Asia](#) occidental, situado en la región del [Próximo Oriente](#), y perteneciente a [Israel](#), incluida una estrecha franja costera de 10 metros de anchura en su costa nororiental.¹ **Galilea**, también llamado **Mar** o **Lago de Tiberíades** y **Lago de Genesaret**

¿Sabes por qué celebramos la Navidad el 25 de diciembre?

El día de Navidad es el 25 de diciembre, cuando se conmemora el Nacimiento de Jesucristo en Belén según los evangelios de San Mateo y San Lucas. Después de la Pascua de Resurrección es la fiesta más importante del año eclesiástico. <

Fase 2: Nacimiento de Jesús

Investígalo. **RECURSO 3**

Mira el siguiente vídeo de la canción Más Allá que Gloria Estefan cantó en el Vaticano ante Juan Pablo II. Escribe en el cuaderno las frases que más te gusten acerca del sentido de la Navidad. **RECURSO 2**

cuaderno, copia los explica por qué la has



datos más importantes y elegido. **RECURSO 4**

mapa los siguientes accidentes geográficos: Mar Muerto, río Jordán y lago de Galilea.

Sitúa en el mapa tres poblaciones importantes en la vida de Jesús



Fase 3: Jesús y el templo Busca y bájate un mapa de la ciudad de Jerusalén en tiempos de Jesús. Sitúa en el mapa el Templo de Jerusalén. **RECURSO 1**

. RECURSO 2

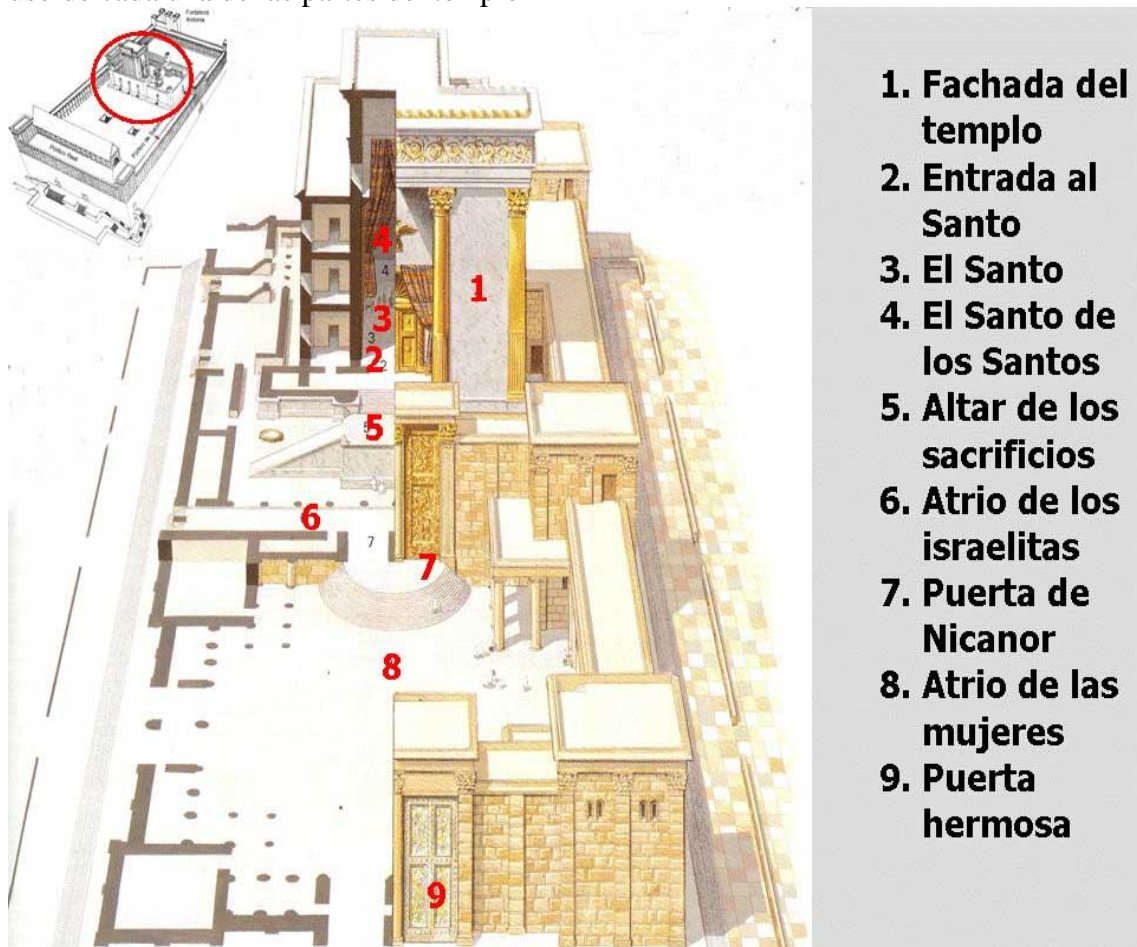
Busca una fotografía actual del lugar donde se encontraba el templo y pégala en tu cuaderno. **RECURSO 2**

Señala en el mapa de Palestina de la fase 1 la ruta de vuelta de de Jerusalén a Nazaret.


Más adelante, cuando Jesús era mayor expulsó a los mercaderes del templo. Busca en el evangelio Mc 11, 15-18 léelo y descubre por qué querían matar a Jesús.

RECURSO 3

Busca también una ilustración del Templo en tiempos de Jesús. Investiga el nombre y el uso de cada una de las partes del templo



Al principio creó Dios el cielo y la tierra. [Gn 1,2](#) La tierra era un caos informe; sobre la faz del abismo, la tiniebla. Y el aliento de Dios se cernía sobre la faz de las aguas. [Gn 1,3](#) Dijo Dios: ---Que exista la luz. Y la luz existió. [Gn 1,4](#) Vio Dios que la luz era buena; y separó Dios la luz de la tiniebla: [Gn 1,5](#) llamó Dios a la luz día, y a la tiniebla noche. Pasó una tarde, pasó una mañana: el día primero. [Gn 1,6](#) Y dijo Dios: ---Que exista una bóveda entre las aguas, que separe aguas de aguas. [Gn 1,7](#) E hizo Dios la bóveda para separar las aguas de debajo de la bóveda, de las aguas de encima de la bóveda. Y así fue. [Gn 1,8](#) Y llamó Dios a la bóveda cielo. Pasó una tarde, pasó una mañana: el día segundo. [Gn 1,9](#) Y dijo Dios: ---Que se junten las aguas de debajo del cielo en un solo sitio, y que aparezcan los continentes. Y así fue. [Gn 1,10](#) Y llamó Dios a los continentes tierra, y a la masa de las aguas la llamó mar. Y vio Dios que era bueno. [Gn 1,11](#) Y dijo Dios: ---Verdee la tierra hierba verde que engendre semilla y árboles frutales que den fruto según su especie y que lleven semilla sobre la tierra. Y así fue. [Gn 1,12](#) La tierra brotó hierba verde que engendraba semilla según su especie, y árboles que daban fruto y llevaban semilla según su especie. Y vio Dios que era bueno. [Gn 1,13](#) Pasó una tarde, pasó una mañana: el día tercero. [Gn 1,14](#) Y dijo Dios: ---Que existan lumbreras en la bóveda del cielo para.



CÉSAR Y ANDREA

- 1) Busca y bájate un mapa de Palestina en tiempos de Jesús sobre el que realizar las tareas siguientes.
 - 2) Localiza en el mapa los siguientes accidentes geográficos: Mar Muerto, río Jordán y lago de Galilea.
 - 3) Sitúa en el mapa tres poblaciones importantes en la vida de Jesús.
- 1) Señala en el mapa de la fase 1 la ruta que tuvieron que hacer José y María desde Nazaret a Belén.



4) Busca otras maneras de llamar al lago de Galilea y averigua sus características.

Otra forma de llamar al lago de Galilea es "[Mar de Tiberíades](#)", o "Lago de Genesaret".

Sus características son:

Que tiene 21 Km. de largo y 12 de ancho, está situado a 210 m bajo el nivel del mar.



Fase 2

2) ¿Sabes por qué celebramos la Navidad el 25 de diciembre? Investígalo.

El día de Navidad es el 25 de diciembre, cuando se conmemora el Nacimiento de Jesucristo en Belén según los evangelios de San Mateo y San Lucas. Después de la Pascua de Resurrección es la fiesta más importante del año eclesiástico.

en Alejandría, cerca del año 200 de nuestra era, cuando Clemente de Alejandría indica que ciertos teólogos egipcios "muy curiosos" asignan no sólo el año sino también el día real del nacimiento de Cristo como 25 pashons copto (20 de mayo) en el vigésimo octavo año de Augusto. Desde 221, en la obra *Chronographiai*, Sexto Julio Africano popularizó el 25 de diciembre como la fecha del nacimiento de Jesús. Para la época del Concilio de Nicea I en 325, la Iglesia Alejandrina ya había fijado el Días *nativitatis et epifaniae*.

El papa Julio I pidió en 350 que el nacimiento de Cristo fuera celebrado el 25 de diciembre, lo cual fue decretado por el papa Liberio en 354. La primera mención de un banquete de Navidad en tal fecha en Constantinopla, data de 379, bajo Gregorio Nacianceno. La fiesta fue introducida en Antioquia hacia 380. En Jerusalén, Egeria, en el siglo IV, atestiguó el banquete de la presentación, cuarenta días después del 6 de enero, el 15 de febrero, que debe haber sido la fecha de celebración del nacimiento. El banquete de diciembre alcanzó Egipto en el siglo V.



3) Mira el siguiente vídeo de la canción Más Allá que Gloria Estefan cantó en el Vaticano ante Juan Pablo II. Escribe en el cuaderno las frases que más te gusten acerca del sentido de la Navidad.

Más allá del rencor
De las lágrimas y el dolor
Brilla la luz del amor
Dentro de cada corazón.
Ilusión, Navidad
Pon tus sueños a volar
Siembra paz



3) Visita el enlace del Museo Thyssen y elige una pintura que te guste acerca del nacimiento de Jesús o del Niño Jesús. Pégala en tu cuaderno, copia los datos más importantes y explica por qué la has elegido.



[Fra Bartolomeo](#)

Título:

La Sagrada Familia con san Juanito

Fecha:

c. 1506-1507

Técnica:

62 x 47 cm.

Ubicación:

Museo Thyssen-Bornemisza, Madrid

Numero de inventario

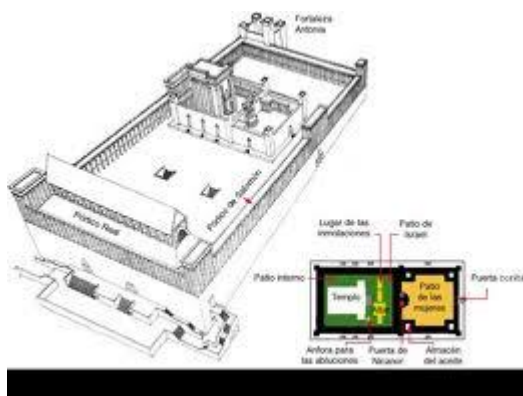
Nº INV. 29 (1955.6)

Porque San José no tiene barba

- 1) Busca y bájate un mapa de la ciudad de Jerusalén en tiempos de Jesús. sitúa en el mapa el Templo de Jerusalén.



- 2) Busca también una ilustración del templo en tiempos de Jesús. Investiga el nombre el uso de cada una de las partes del templo.



- 4) Más adelante, cuando Jesús era mayor expulsó a los mercaderes del templo. Busca en el evangelio Marcos 11, 15-18 léelo y descubre por qué querían matar a Jesús.

Porque le temían.